

Roll No. _____

Mathematics (Science Group)

Time: 20 Minutes

Marks: 15

Paper: I

Group: I

GUJ-91-21

(سیکنڈری سکول پارٹ I، کلاس نہم) 121-(II)

Objective

Code: 5193

رول نمبر امیدوار _____

ریاضی (سائنس گروپ) پرچہ I

پہلا گروپ وقت: 20 منٹ

مارکس: 15

نوٹ: ہر سوال کے چار ممکنہ جوابات A، B، C اور D دیئے گئے ہیں۔ جوابی کاپی پر ہر سوال کے سامنے دیئے گئے دائروں میں سے درست جواب کے مطابق متعلقہ دائرہ کو مارکر یا پین سے بھر دیجئے۔ ایک سے زیادہ دائروں کو پُر کرنے یا کاٹ کر پُر کرنے کی صورت میں مذکورہ جواب غلط تصور ہوگا۔

- 1- 1- The diagonals of a parallelogram _____ each other. (A) bisect (B) trisect (C) bisect at right angle (D) none of these
- 2- Distance between the points (1, 0) and (0, 1) is _____ (A) 0 (B) 1 (C) $\sqrt{2}$ (D) 2
- 3- $x = 0$ is a solution of inequality _____ (A) $x > 0$ (B) $3x + 5 < 0$ (C) $x + 2 < 0$ (D) $x - 2 < 0$
- 4- H.C.F. of $x^2 - 5x + 6$ and $x^2 - x - 6$ is _____ (A) $x - 3$ (B) $x + 2$ (C) $x^2 - 4$ (D) $x - 2$
- 5- The degree of polynomial $4x^4 + 2x^2y$ is _____ (A) 1 (B) 2 (C) 3 (D) 4
- 6- If $x, y, z \in R$ and $z < 0$, then $x < y \Rightarrow \dots\dots$ (A) $xz < yz$ (B) $xz > yz$ (C) $xz = yz$ (D) none of these
- 7- Product of $\begin{bmatrix} x & y \\ -1 & 1 \end{bmatrix}$ is _____ (A) $\begin{bmatrix} 2x+y \\ -x-2y \end{bmatrix}$ (B) $\begin{bmatrix} x-2y \\ 2x+y \end{bmatrix}$ (C) $\begin{bmatrix} 2x-y \\ x+2y \end{bmatrix}$ (D) $\begin{bmatrix} x+2y \\ 2x-y \end{bmatrix}$
- 8- The logarithm of unity to any base is _____ (A) 1 (B) 10 (C) e (D) 0
- 9- Which is order of a square matrix _____ (A) $2-by-2$ (B) $1-by-2$ (C) $2-by-1$ (D) $3-by-2$
- 10- The _____ altitudes of an isosceles triangle are congruent. (A) دو (B) تین (C) چار (D) کوئی نہیں
- 11- Factors of $5x^2 - 17xy - 12y^2$ are _____ (A) $(x+4y), (5x+3y)$ (B) $(x-4y), (5x-3y)$ (C) $(x-4y), (5x+3y)$ (D) $(5x-4y), (x+3y)$
- 12- $\left(\frac{25}{16}\right)^{-\frac{1}{2}} = \dots\dots$ (A) $\frac{5}{4}$ (B) $\frac{4}{5}$ (C) $-\frac{5}{4}$ (D) $-\frac{4}{5}$
- 13- The product of two algebraic expression is equal to the _____ of their H.C.F. and L.C.M. (A) حاصل جمع (B) حاصل تفریق (C) حاصل ضرب (D) حاصل تقسیم
- 14- $\log_y x$ will be equal to _____ (A) $\frac{\log_z x}{\log_y z}$ (B) $\frac{\log_x z}{\log_y z}$ (C) $\frac{\log_z x}{\log_z y}$ (D) $\frac{\log_z y}{\log_z x}$
- 15- If $(x, 0) = (0, y)$, then (x, y) is _____ (A) $(0, 1)$ (B) $(1, 0)$ (C) $(0, 0)$ (D) $(1, 1)$

نوٹ: حصہ اول لازمی ہے۔ حصہ دوم میں سے تین (3) سوالات حل کیجئے۔ تاہم سوال نمبر نو (9) لازمی ہے۔

Section I

2- Write short answers to any SIX questions:

(2 x 6 = 12)

-2 کوئی سے چھ (6) سوالات کے مختصر جوابات تحریر کیجئے۔

i- If $A = \begin{bmatrix} 1 & 2 \\ 0 & 1 \end{bmatrix}$, then verify that $(A^t)^t = A$

i- اگر $A = \begin{bmatrix} 1 & 2 \\ 0 & 1 \end{bmatrix}$ ہو تو تصدیق کیجئے کہ $(A^t)^t = A$

ii- If $D = \begin{bmatrix} 1 & 2 & 3 \\ -1 & 0 & 2 \end{bmatrix}$, then find $D + \begin{bmatrix} 0 & 1 & 0 \\ 2 & 0 & 1 \end{bmatrix}$

ii- اگر $D = \begin{bmatrix} 1 & 2 & 3 \\ -1 & 0 & 2 \end{bmatrix}$ ہو تو قاتب $D + \begin{bmatrix} 0 & 1 & 0 \\ 2 & 0 & 1 \end{bmatrix}$

iii- Express $\frac{9-7i}{3+i}$ in the standard form $a+bi$

iii- $\frac{9-7i}{3+i}$ کو معیاری شکل $a+bi$ میں ظاہر کیجئے۔

iv- Evaluate i^{27}

iv- i^{27} کی قیمت معلوم کیجئے۔

v- Express 9.018×10^{-6} in ordinary notation.

v- 9.018×10^{-6} کو عام ترقیم میں لکھئے۔

vi- Find the value of x when $\log_2 x = 5$

vi- x کی قیمت معلوم کیجئے جبکہ $\log_2 x = 5$

vii- Reduce the rational expression to the lowest form

$$\frac{(x+y)^2 - 4xy}{(x-y)^2}$$

vii- $\frac{(x+y)^2 - 4xy}{(x-y)^2}$ کو مختصر ترین شکل میں لکھئے۔

viii- Simplify $(\sqrt{x} + \sqrt{y})(\sqrt{x} - \sqrt{y})(x+y)(x^2+y^2)$

viii- $(\sqrt{x} + \sqrt{y})(\sqrt{x} - \sqrt{y})(x+y)(x^2+y^2)$ کو مختصر کیجئے۔

ix- Factorize $3x - 243x^3$

ix- $3x - 243x^3$ کی تجزی کیجئے۔

3- Write short answers to any SIX questions:

(2 x 6 = 12)

-3 کوئی سے چھ (6) سوالات کے مختصر جوابات تحریر کیجئے۔

i- Find the H.C.F. of the following expressions:

$$102xy^2z, 85x^2yz, 187xyz^2$$

i- درج ذیل جملوں کا عاوا اعظم معلوم کیجئے:

$$102xy^2z, 85x^2yz, 187xyz^2$$

ii- Solve the equation $\sqrt{\frac{x+1}{2x+5}} = 2, x \neq -\frac{5}{2}$

ii- مساوات $\sqrt{\frac{x+1}{2x+5}} = 2, x \neq -\frac{5}{2}$ کو حل کیجئے۔

iii- Solve $|x+2| - 3 = 5 - |x+2|$

iii- $|x+2| - 3 = 5 - |x+2|$ کو حل کیجئے۔

iv- Draw the graph of $y = 4x$ iv- $y = 4x$ کا گراف کھینچئے۔

v- Determine the quadrant of the co-ordinate plane in

v- دیے ہوئے نقاط سے کوآرڈینیٹ مستوی کے ربع کا تعین کیجئے:

which the following points lie: $P(-4, 3), S(2, -6)$

$$P(-4, 3), S(2, -6)$$

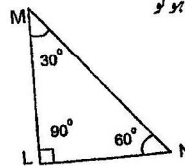
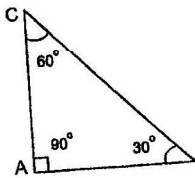

vi- Find the mid-point of the points $(6, 6), (4, -2)$ vi- نقاط $(6, 6), (4, -2)$ کا درمیانی نقطہ معلوم کیجئے۔vii- Find the distance between points $(7, 5), (1, -1)$ vii- نقاط $(7, 5), (1, -1)$ کے درمیان فاصلہ معلوم کیجئے۔viii- If $\triangle ABC \cong \triangle LMN$, thenviii- اگر $\triangle ABC \cong \triangle LMN$ ہو تو

(i) $m \angle N \cong \dots\dots\dots$

(i) $m \angle N \cong \dots\dots\dots$

(ii) $m \angle A \cong \dots\dots\dots$

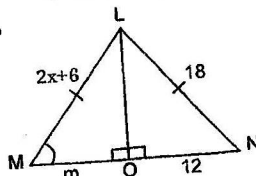
(ii) $m \angle A \cong \dots\dots\dots$

ix- Find the unknowns $x^\circ, y^\circ, m^\circ$ and n° in the given figure:ix- دی گئی شکل میں نامعلوم $x^\circ, y^\circ, m^\circ$ اور n° کی مقدار معلوم کیجئے۔

4- Write short answers to any SIX questions:

(2 x 6 = 12)

-4 کوئی سے چھ (6) سوالات کے مختصر جوابات تحریر کیجئے۔

i- In the given congruent triangles LMO and LNO, find the unknowns x and m :i- دی گئی متشابه مثلثان LMO اور LNO میں نامعلوم x اور m کی مقدار معلوم کیجئے۔

ii- What will be angle for shortest distance from an outside point to the line?

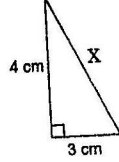
ii- کسی خط کے بیرونی نقطہ سے کھینچنے گئے قطعات خط میں سے فاصلے میں سب سے چھوٹا قطعہ خط، اس خط کے ساتھ کتنی مقدار کا زاویہ بنائے گا؟
-iii- متشابہ مثلثوں کی تعریف کیجئے۔

iii- Define similar triangles.

iv- Verify that the triangle having $a = 5$ cm, $b = 12$ cm, $c = 13$ cm measures of sides a right-angled triangle.

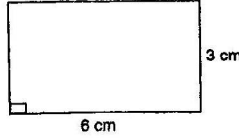
iv- مثلث کے اضلاع کی لمبائیاں $a = 5$ cm, $b = 12$ cm, $c = 13$ cm ہیں۔ تصدیق کیجئے کہ یہ مثلث قائمہ الزاویہ ہے۔

v- Find the value of x in the figure:



v- دی گئی شکل میں x کی قیمت معلوم کیجئے۔

vi- Find the area of the figure:



vi- دی گئی شکل کا رقبہ معلوم کیجئے۔

vii- Define triangular region.

vii- مثلثی رقبہ کی تعریف کیجئے۔

viii- Construct ΔXYZ , in which

viii- ΔXYZ بنائے جس میں

$$m\overline{ZX} = 6.4 \text{ cm}, \quad m\overline{YZ} = 2.4 \text{ cm}, \quad m\angle Y = 90^\circ$$

ix- Define centroid.

ix- سنٹرائڈ کی تعریف کیجئے۔

(ہر سوال کے 8 نمبر اور ہر جزو کے 4 نمبر ہیں) **Section II حصہ دوم**

5- (a) Solve the following system of linear equations by using matrix inversion method:

5- (الف) دی ہوئی مساواتوں کو قالموں کے معکوس کی مدد سے حل کیجئے:

$$2x - 2y = 4$$

$$2x - 2y = 4$$

$$3x + 2y = 6$$

$$3x + 2y = 6$$

(b) Simplify $\sqrt{\frac{(216)^{\frac{2}{3}} \times (25)^{\frac{1}{2}}}{(0.04)^{\frac{-3}{2}}}}$

(ب) $\sqrt{\frac{(216)^{\frac{2}{3}} \times (25)^{\frac{1}{2}}}{(0.04)^{\frac{-3}{2}}}}$ کو مختصر کیجئے۔

6- (a) Use log table to find the value of $\frac{(438)^3 \sqrt{0.056}}{(388)^4}$

6- (الف) لوگارتھم جدول کی مدد سے قیمت معلوم کیجئے: $\frac{(438)^3 \sqrt{0.056}}{(388)^4}$

(b) If $x - y = 4$ and $xy = 21$, then find the value of $x^3 - y^3$

(ب) اگر $x - y = 4$ اور $xy = 21$ ہو تو $x^3 - y^3$ کی قیمت معلوم کیجئے۔

7- (a) Factorize: $8x^3 - 125y^3 - 60x^2y + 150xy^2$

7- (الف) $8x^3 - 125y^3 - 60x^2y + 150xy^2$ کی تجزیہ کیجئے۔

(b) Simplify $\frac{x^2 - x - 6}{x^2 - 9} + \frac{x^2 + 2x - 24}{x^2 - x - 12}$

(ب) $\frac{x^2 - x - 6}{x^2 - 9} + \frac{x^2 + 2x - 24}{x^2 - x - 12}$ کو مختصر کیجئے۔

8- (a) Solve the equation $\frac{5(x-3)}{6} - x = 1 - \frac{x}{9}$

8- (الف) مساوات $\frac{5(x-3)}{6} - x = 1 - \frac{x}{9}$ کا حل سیٹ معلوم کیجئے۔

(b) Construct ΔXYZ . Draw its three medians:

(ب) مثلث XYZ بنائے اس کے وسطیے کھینچئے:

$$m\overline{XY} = 4.5 \text{ cm}, \quad m\overline{YZ} = 3.4 \text{ cm} \quad \text{and} \quad m\overline{ZX} = 5.6 \text{ cm}$$

9- Prove that any point on the right bisector of a line segment is equidistant from its end points.

9- ثابت کیجئے کہ اگر ایک نقطہ کسی قطعہ خط کے عمودی ناصف پر واقع ہو تو وہ نقطہ قطعہ خط کے سروں سے مساوی الفاصلہ ہوگا۔

OR

یا

Prove that any point on the bisector of an angle is equidistant from its arms.

ثابت کیجئے کہ کسی زاویہ کے ناصف پر ہر ایک نقطہ اس کے بازوؤں سے مساوی الفاصلہ ہوتا ہے۔

Roll No. _____

Mathematics (Science Group)

Time: 20 Minutes

Marks: 15

Paper: I

Group: II

GUJ-42-21

(سیکنڈری سکول پارٹ I، کلاس نہم) 121-(IV)

Objective معروضی

Code: 5198

پرچہ I

دوسرا گروپ

روٹمٹر امیدوار

ریاضی (سائنس گروپ)

وقت: 20 منٹ

مارکس: 15

نوٹ: ہر سوال کے چار ممکنہ جوابات A، B، C اور D دیئے گئے ہیں۔ جوابی کاپی پر ہر سوال کے سامنے دیئے گئے دائروں میں سے درست جواب کے مطابق متعلقہ دائرہ کو مارکر یا پین سے بھر دیجئے۔ ایک سے زیادہ دائروں کو پُر کرنے یا کاٹ کر پُر کرنے کی صورت میں مذکورہ جواب غلط تصور ہوگا۔

- 1- 1- Point $(-3, -3)$ lies in quadrant _____
IV (D) III (C) II (B) I (A)
- 2- The value of $\log\left(\frac{p}{q}\right)$ is = _____
 $\log q - \log p$ (D) $\log p + \log q$ (C) $\frac{\log p}{\log q}$ (B) $\log p - \log q$ (A)
- 3- The right bisectors of the three sides of a triangle are _____
collinear (B) congruent (A)
parallel (D) concurrent (C)
- 4- Which is order of a square matrix _____
3-by-2 (D) 2-by-1 (C) 1-by-2 (B) 2-by-2 (A)
- 5- The medians of a triangle cut each other in the ratio _____
1:1 (D) 2:1 (C) 3:1 (B) 4:1 (A)
- 6- Mid-point of the points $(2, 2)$ and $(0, 0)$ is _____
 $(-1, -1)$ (D) $(0, 1)$ (C) $(1, 0)$ (B) $(1, 1)$ (A)
- 7- What should be added to complete the square of $x^4 + 64$ _____
 $4x^2$ (D) $16x^2$ (C) $-8x^2$ (B) $8x^2$ (A)
- 8- If $a^x = n$, then _____
 $a = \log_n x$ (D) $x = \log_a n$ (C) $x = \log_n a$ (B) $a = \log_x n$ (A)
- 9- If $x, y, z \in \mathbb{R}$ and $z < 0$, then $x < y \Rightarrow \dots\dots$
none of these (D) $xz = yz$ (C) $xz > yz$ (B) $xz < yz$ (A)
- 10- The degree of polynomial $4x^4 + 2x^2y$ is _____
4 (D) 3 (C) 2 (B) 1 (A)
- 11- L.C.M. of $a^2 + b^2$ and $a^4 - b^4$ is _____
 $a - b$ (D) $a^2 - b^2$ (C) $a^2 + b^2$ (B) $a^4 - b^4$ (A)
- 12- Write $4^{\frac{2}{3}}$ with radical sign _____
 $\sqrt{4^6}$ (D) $-\sqrt[2]{4^3}$ (C) $\sqrt{4^3}$ (B) $\sqrt[3]{4^2}$ (A)
- 13- If x is no larger than 10, then _____
 $x > 10$ (D) $x < 10$ (C) $x \leq 10$ (B) $x \geq 8$ (A)
- 14- Find m so that $x^2 + 4x + m$ is a complete square _____
16 (D) 4 (C) -8 (B) 8 (A)
- 15- If $\begin{vmatrix} 2 & 6 \\ 3 & x \end{vmatrix} = 0$, then x is equal to _____
9 (D) 6 (C) -6 (B) -9 (A)

11-(IV)-121-109000

نوٹ: حصہ اوّل لازمی ہے۔ حصہ دوم میں سے تین (3) سوالات حل کیجئے۔ تاہم سوال نمبر نو (9) لازمی ہے۔

Section I حصہ اوّل

1- Write short answers to any SIX questions:

(2 x 6 = 12)

2- کوئی سے چھ (6) سوالات کے مختصر جوابات تحریر کیجئے۔

i- Verify that if $\dot{A} = \begin{bmatrix} 1 & 2 \\ 0 & 1 \end{bmatrix}$, then $(A^t)^t = A$

i- اگر $A = \begin{bmatrix} 1 & 2 \\ 0 & 1 \end{bmatrix}$ ہو تو تصدیق کیجئے کہ $(A^t)^t = A$

ii- If $D = \begin{bmatrix} 1 & 2 & 3 \\ -1 & 0 & 2 \end{bmatrix}$, then find

ii- اگر $D = \begin{bmatrix} 1 & 2 & 3 \\ -1 & 0 & 2 \end{bmatrix}$ ہو تو درج ذیل قاب معلوم کیجئے:

$D + \begin{bmatrix} 0 & 1 & 0 \\ 2 & 0 & 1 \end{bmatrix}$

$D + \begin{bmatrix} 0 & 1 & 0 \\ 2 & 0 & 1 \end{bmatrix}$

iii- Express each complex number in the standard form $a + bi$

iii- درج ذیل کمپلیکس اعداد (غیر حقیقی اعداد) کو $a + bi$ کی شکل میں حاصل کیجئے:

$-(-3 + 5i) - (4 + 9i)$

$-(-3 + 5i) - (4 + 9i)$

iv- Simplify $5^2 \div (5^2)^3$

iv- $5^2 \div (5^2)^3$ کو مختصر کیجئے۔

v- Find the value of x if $\log_{625} 5 = \frac{1}{4}x$

v- اگر $\log_{625} 5 = \frac{1}{4}x$ ہو تو x کی قیمت معلوم کیجئے۔

vi- Express 416.9 in scientific notation.

vi- 416.9 کو سائنسی تزقیم میں لکھئے۔

vii- Evaluate $\frac{x^2y^3 - 5z^4}{xyz}$, for

vii- $\frac{x^2y^3 - 5z^4}{xyz}$ کی قیمت معلوم کیجئے جبکہ

$x = 4, y = -2, z = -1$

$x = 4, y = -2, z = -1$

viii- Simplify $2(6\sqrt{5} - 3\sqrt{5})$

viii- $2(6\sqrt{5} - 3\sqrt{5})$ کو مختصر کیجئے۔

ix- Factorize $3x - 243x^3$

ix- $3x - 243x^3$ کی تجزیہ کیجئے۔

3- Write short answers to any SIX questions:

(2 x 6 = 12)

3- کوئی سے چھ (6) سوالات کے مختصر جوابات تحریر کیجئے۔

i- Find L.C.M. of $102xy^2z, 85x^2yz, 187xyz^2$

i- $102xy^2z, 85x^2yz, 187xyz^2$ کا

ذواضعاف اقل معلوم کیجئے۔

ii- Solve the equation $\sqrt{3x+4} = 2$

ii- مساوات $\sqrt{3x+4} = 2$ کو حل کیجئے۔

iii- Solve for x $\left| \frac{x+5}{2-x} \right| = 6$

iii- مساوات $\left| \frac{x+5}{2-x} \right| = 6$ کو حل کیجئے۔

iv- Determine the quadrant for the points:

iv- دیئے گئے نقاط کیلئے مستوی کے ربع کا تعین کیجئے:

$P(-4, 3), S(2, -6)$

$P(-4, 3), S(2, -6)$

v- Verify whether the point $(5, 3)$ lies on the line $2x - y + 1 = 0$ or not.

v- تصدیق کیجئے کہ نقطہ $(5, 3)$ لائن $2x - y + 1 = 0$ پر واقع ہے یا نہیں۔

vi- Find the mid-point of the points $(-5, -7)$ and $(-7, -5)$

vi- نقاط $(-5, -7)$ اور $(-7, -5)$ کا درمیانی نقطہ معلوم کیجئے۔

vii- Find the distance between the points $A(0, 0), B(0, -5)$

vii- نقاط $A(0, 0), B(0, -5)$ کا درمیانی فاصلہ معلوم کیجئے۔

viii- If $\Delta ABC \cong \Delta LMN$, then

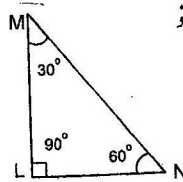
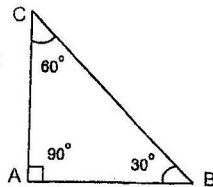
viii- اگر $\Delta ABC \cong \Delta LMN$ ہو تو

(i) $m \angle N \cong \dots\dots\dots$

(i) $m \angle N \cong \dots\dots\dots$

(ii) $m \angle A \cong \dots\dots\dots$

(ii) $m \angle A \cong \dots\dots\dots$



ix- If LMNP is a parallelogram and sum of its two opposite angles is 110° .

ix- اگر LMNP ایک متوازی الاضلاع ہے اور اس کے دو مخالف زاویوں کا مجموعہ 110° ہے تو

Find the remaining angles.

بقیہ زاویوں میں سے ہر ایک کی قیمت معلوم کیجئے۔

(درج لکھئے)



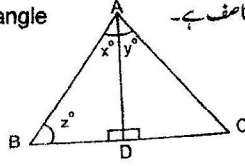
4- Write short answers to any SIX questions:

(2 x 6 = 12)

4- کوئی سے چھ (6) سوالات کے مختصر جوابات تحریر کیجئے۔

i- In equilateral triangle ABC, \overline{AD} is bisector of angle A, then find the value of x° , y° and z°

ا- مساوی الاضلاع مثلث ABC میں \overline{AD} زاویہ A کا ناصف ہے۔ x° ، y° اور z° کی قیمت معلوم کیجئے۔



ii- 3 cm, 4 cm and 7 cm are not the lengths of the triangle. Give the reason.

ii- 3 cm، 4 cm اور 7 cm کسی مثلث کے اضلاع کی لمبائیاں نہیں ہیں۔ دلیل سے وضاحت کیجئے۔

iii- Define similar triangles.

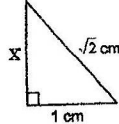
iii- متشابه مثلثوں کی تعریف کیجئے۔

iv- Verify that the Δ having the following measure of sides is right-angled: $a = 16$ cm, $b = 30$ cm, $c = 34$ cm

iv- مثلث کے اضلاع کی لمبائیاں درج ذیل ہیں۔ تصدیق کیجئے کہ یہ مثلث قائمہ الزاویہ ہے۔ $a = 16$ cm، $b = 30$ cm، $c = 34$ cm

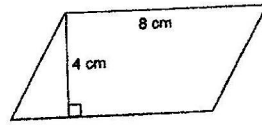
v- Find the value of x in the figure:

v- شکل میں x کی قیمت معلوم کیجئے۔



vi- Find the area of figure:

vi- شکل کا رقبہ معلوم کیجئے۔



vii- Define altitude or height of a triangle.

vii- مثلث کے ارتفاع کی تعریف کیجئے۔

viii- Construct a ΔABC

viii- ΔABC بنائیے۔

$$m \overline{AB} = 3.2 \text{ cm}, \quad m \overline{BC} = 4.2 \text{ cm}, \quad m \overline{CA} = 5.2 \text{ cm}$$

ix- Define incentre.

ix- اندرونی مرکز کی تعریف لکھئے۔

حصہ دوم Section II (ہر سوال کے 8 نمبر اور ہر جزو کے 4 نمبر ہیں)

5- (a) Solve by using the matrix inversion method:

5- (الف) تالیوں کے ضربی معکوس کی مدد سے حل کیجئے:

$$2x - 2y = 4, \quad 3x + 2y = 6$$

$$2x - 2y = 4, \quad 3x + 2y = 6$$

(b) Simplify $\sqrt{\frac{(216)^{2/3} \times (25)^{1/2}}{(0.04)^{-3/2}}}$

(ب) کو مختصر کیجئے۔ $\sqrt{\frac{(216)^{2/3} \times (25)^{1/2}}{(0.04)^{-3/2}}}$

6- (a) Use log tables to find the value of $\frac{(8.97)^3 \times (3.95)^2}{\sqrt[3]{15.37}}$

6- (الف) $\frac{(8.97)^3 \times (3.95)^2}{\sqrt[3]{15.37}}$ کو لوگارٹم جدول کی مدد سے حل کیجئے۔

(b) If $x = \frac{\sqrt{5} - \sqrt{2}}{\sqrt{5} + \sqrt{2}}$, then find the values of $x + \frac{1}{x}$ and $x^2 + \frac{1}{x^2}$

(ب) اگر $x = \frac{\sqrt{5} - \sqrt{2}}{\sqrt{5} + \sqrt{2}}$ ہو تو $x + \frac{1}{x}$ اور $x^2 + \frac{1}{x^2}$ کی قیمتیں معلوم کیجئے۔

7- (a) Determine the value of k if $p(x) = kx^3 + 4x^2 + 3x - 4$ and $q(x) = x^3 - 4x + k$ leaves the same remainder when divided by $(x - 3)$

7- (الف) k کی کس قیمت کیلئے کثیر رقمیوں $p(x) = kx^3 + 4x^2 + 3x - 4$ اور $q(x) = x^3 - 4x + k$ کو $(x - 3)$ پر تقسیم کرنے سے یکساں باقی بچے گا۔

(b) Simplify $A - \frac{1}{A}$ as a rational expression where $A = \frac{a+1}{a-1}$

(ب) $A - \frac{1}{A}$ کو ناطق جملے میں مختصر کیجئے جبکہ $A = \frac{a+1}{a-1}$

8- (a) Solve $\frac{2}{x^2 - 1} - \frac{1}{x + 1} = \frac{1}{x + 1}$, $x \neq \pm 1$

8- (الف) $\frac{2}{x^2 - 1} - \frac{1}{x + 1} = \frac{1}{x + 1}$ کو حل کیجئے۔

(b) Construct a ΔABC and draw perpendicular bisectors of its sides:

(ب) مثلث ABC بنائیے اور اس کے اضلاع کے عمودی ناصف کھینچئے۔

$$m \overline{AB} = 5.3 \text{ cm}, \quad m \angle A = 45^\circ \text{ and } m \angle B = 30^\circ$$

9- Prove that any point on the right bisector of a line segment is equidistant from its end points.

9- ثابت کیجئے کہ اگر ایک نقطہ کسی قطعہ خط کے عمودی ناصف پر واقع ہو تو وہ نقطہ قطعہ خط کے سروں سے مساوی الفاصلہ ہوگا۔

OR

Prove that any point on the bisector of an angle is equidistant from its arms.

ثابت کیجئے کہ کسی زاویے کے ناصف پر ہر ایک نقطہ اس کے بازوؤں سے مساوی الفاصلہ ہوگا۔