

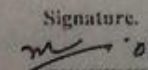

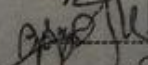
**BOARD OF INTERMEDIATE AND SECONDARY EDUCATION,
MULTAN**
OBJECTIVE KEY FOR SSC 10th ANNUAL Examination, 2016
Name of Subject ECONOMICS Session 2016.

Q. Nos.	Paper Code	Paper Code	Paper Code	Paper Code
	7111			
1.	A			
2.	D			
3.	D			
4.	A			
5.	D			
6.	C			
7.	C			
8.	A			
9.	B			
10.	A			
11.	B			
12.	D			
13.	D			
14.	A			
15.	D			
16.				
17.				
18.				
19.				
20.				

سرٹیفکیٹ بابت تصحیح سوالیہ پرچہ مارکنگ Key

ہم نے مضمون اقتصادیات پرچہ تجزیہ گروپ ب میٹرک سالانہ 2016 کا سوالیہ پرچہ انٹائیو / مسروٹی (Subjective & Objective) کو نظر ثانی چیک کر لیا ہے یہ پرچہ سلیبس کے متن مطابق Set کیا گیا ہے۔ اس سوالیہ پرچہ میں کسی قسم کی کوئی غلطی نہ ہے۔ ہم نے سوالیہ پرچہ کا اردو اور انگریزی Version بھی چیک کر لیا ہے یہ Version آپس میں مطابقت رکھتے ہیں اور سلیبس (Syllabus) کے مطابق بھی ہیں۔ نیز اس پرچہ کی Key کی بابت بھی تصدیق کی جاتی ہے کہ یہ بھی درست دہائی گئی ہے۔ اس میں بھی کسی قسم کی کوئی غلطی نہ ہے۔ مزید یہ کہ ہم نے Key بنانے سے متعلق دفتر کی جانب سے تیار کردہ ہدایات وصول کر کے ان کا بغور مطالعہ کر لیا ہے اور ان کی روشنی میں Key بنائی ہے۔

PREPARED & CHECKED BY

Sr.No	Name	Designation	Institution	Mobile No.	Signature
01)	RAO ZULFIQAR ALI (SSS)	CHIEF BTR/NI (MN)			 030-7386525
02)	Muhammad Anwar 88	CHIEF BTR/NI	Ram		 03084206567
03)	Muhammad Faridul Haq	S.S	Multan		 16/3/16

R CODE

BER: 7111

2016 (A)

رول نمبر

SSC PART-II (10th CLASS)

ECONOMICS

OBJECTIVE حصہ معروضی

معاثیات

TIME ALLOWED: 20 Minutes

وقت = 20 منٹ

MAXIMUM MARKS: 15

کل نمبر = 15

نوٹ - ہر سوال کے چار ممکنہ جوابات A, B, C اور D دیئے گئے ہیں۔ جو اپنی کاپی پر ہر سوال کے سامنے دیئے گئے دائروں میں سے درست جواب کے مطابق حلقہ دائرہ کرنا یا ٹین سے لکھنا۔ ایک سے زیادہ دائروں کو لکھنے یا کاٹ کر پڑکنے کی صورت میں مذکورہ جواب غلط تصور ہوگا۔ Bubbles پڑکنے کی صورت میں کوئی نمبر نہیں دیا جائے گا۔ اس سوال پر چار سوالات ہر گز حل نہ کریں۔

Note: You have four choices for each objective type question as A, B, C and D.

The choice which you think is correct, fill that circle in front of that question number. Use marker or pen to fill the circles. Cutting or filling two or more circles will result in zero mark in that question. Attempt as many questions as given in objective type question paper and leave others blank. No credit will be awarded in case BUBBLES are not filled. Do not solve question on this sheet of OBJECTIVE PAPER.

سوال نمبر 1-

- (1) Net National Product is equal to:-
 (A) Gross National Product - Depreciation Allowance نام قومی پیداوار - فرسودگی الاؤنس
 (B) Gross National Product - Savings نام قومی پیداوار - بچت
 (C) Gross National Product - Investment نام قومی پیداوار - سرمایہ کاری
 (D) Gross National Product - Consumption نام قومی پیداوار - صرف
- (2) Factors of Production are:- (A) One (B) Two (C) Three (D) Four
 عاملین پیداوار ہیں۔
- (3) Consumption is a function of:-
 (A) Price (B) Saving (C) Investment (D) Income
 صرف دولت تعلق ہے۔
- (4) Kinds of Paper Money are:- (A) Two (B) Three (C) Four (D) Five
 کاغذی زر کی اقسام ہیں۔
- (5) _____ is not included in the functions of Money.
 (A) Medium of Exchange (B) Standard of Value (C) Store of Value (D) Indivisibility
 کو زر کے فرائض میں شامل نہیں کیا جاتا۔
- (6) Currency note of 100 rupees in Pakistan is issued by:-
 (A) Industrial Bank (B) Agricultural Bank (C) Central Bank (D) Commercial Bank
 پاکستان میں 100 روپے کا کرنسی نوٹ جاری کرتا ہے۔
- (7) The institution which accepts deposits and advances loans, is called:-
 (A) Industrial Bank (B) Agricultural Bank (C) Central Bank (D) Commercial Bank
 ایسا ادارہ جو لوگوں کی ادائیگیوں کو قبول کرے اور قرض پر دے، کہلاتا ہے۔
- (8) Pakistan exports Cotton cloth to:-
 (A) America (B) Bangla Desh (C) Saudi Arabia (D) Turkey
 پاکستان سوئی کپڑا برآمد کرتا ہے۔
- (9) Maximum foreign exchange is spent on:-
 (A) Silk (B) Petroleum (C) Colour and dyes (D) Papers
 زرمبادلہ زیادہ خرچ ہوتا ہے۔
- (10) The duration of Public Budget is:-
 (A) One year (B) Two years (C) Three years (D) Five years
 سرکاری بجٹ کا دورانیہ ہے۔
- (11) _____ is related to public expenditures.
 (A) Fines (B) Defence (C) Price (D) Taxes
 کا تعلق سرکاری اخراجات سے ہے۔
- (12) Most important sector of Pakistan's Economy is -
 (A) Industry (B) Trade (C) Communication (D) Agriculture
 پاکستان کی معیشت کا سب سے اہم شعبہ ہے۔
- (13) Best definition of Economic Development is given by:-
 (A) Robbins (B) Arther Lewis (C) Keynes (D) Meier and Baldwin
 معاشی ترقی کی سب سے بہتر تعریف _____ نے کی ہے۔
- (14) Rate of Zakat is -
 (A) 2.50 % (B) 5.00 % (C) 10.00 % (D) 20.00 %
 زکوٰۃ کی شرح ہے۔
- (15) _____ system is based on the principles of Moderation.
 (A) Socialism (B) Mixed (C) Capitalism (D) Islamic
 معاشی نظام اعتدال پسندی کے اصول پر قائم ہے۔

2016 (A)

رول نمبر

SSC PART-II (10th CLASS)

ECONOMICS

SUBJECTIVE حصہ انشائیہ

معاشیات

TIME ALLOWED: 2.10 Hours

وقت = 2.10 گھنٹے

MAXIMUM MARKS: 60

کل نمبر = 60

NOTE: - Write same question number

نوٹ۔ جوابی کاپی پر وہی سوال نمبر اور جزو نمبر درج کیجیے جو کہ سوالیہ پرے میں درج ہے۔

and its part number on answer book, as given in the question paper.

SECTION-I حصہ اول

2. Attempt any six parts.

12 = 2 x 6

سوال نمبر 2۔ کوئی سے چھ اجزاء کے جوابات تحریر کیجیے۔

- What is meant by Net National Income?
- What is the difference between Gross Domestic Product and Gross National Product?
- Write the definition of Money given by Professor Crowther.
- What is meant by Barter System?
- What is meant by Value of Money?
- What is meant by Paper Money?
- What is meant by Disposable Personal Income?
- Differentiate between Convertible and Inconvertible Paper Money.
- Describe difference between Income and Transfer Payments.

- خالص قومی آمدنی سے کیا مراد ہے؟
- خالص ملکی پیداوار اور خالص قومی پیداوار میں کیا فرق ہے؟
- پروفیسر کروٹری کی بیان کردہ زر کی تعریف تحریر کیجیے۔
- بارڈر سسٹم سے کیا مراد ہے؟
- زر کی قدر سے کیا مراد ہے؟
- کاغذی زر سے کیا مراد ہے؟
- قابل تصرف شخصی آمدنی سے کیا مراد ہے؟
- بدل پذیر زر کا کاغذی اور غیر بدل پذیر زر کا کاغذی میں فرق بیان کیجیے۔
- آمدنی اور انتقالی ادائیگیوں میں فرق بیان کیجیے۔

3. Attempt any six parts.

12 = 2 x 6

سوال نمبر 3۔ کوئی سے چھ اجزاء کے جوابات تحریر کیجیے۔

- What is meant by Commercial Bank?
- Define Non-Scheduled Bank.
- What is meant by Bank Rate Policy?
- What is meant by Musharika?
- What is Qarz-e-Hasna?
- Define Domestic Trade.
- Write two advantages of International Trade.
- Define Balance of Trade.
- Write the names of four Exports of Pakistan.

- تجارتی بینک سے کیا مراد ہے؟
- غیر فہرستی بینک کی تعریف کیجیے۔
- شرح بینک کی پالیسی سے کیا مراد ہے؟
- مشارکہ سے کیا مراد ہے؟
- قرض حسنہ کسے کہتے ہیں؟
- ملکی تجارت کی تعریف کیجیے۔
- بین الاقوامی تجارت کے دو فائدے لکھیے۔
- توازن تجارت کی تعریف کیجیے۔
- پاکستان کی چار برآمدات کے نام لکھیے۔

4. Attempt any six parts.

12 = 2 x 6

سوال نمبر 4۔ کوئی سے چھ اجزاء کے جوابات تحریر کیجیے۔

- What do you know about Budget?
- What is meant by Economic Development?
- Define Means of Communication.
- Write two points of difference between Public Finance and Private Finance.
- What is the role of Technology in Economic Development of Pakistan?
- How can Poverty be alleviated by Zakat?
- Write down about Public Debt.
- Write any five sources of Public Revenue.
- Write only two sources of Communication.

- بجٹ کے بارے میں آپ کیا جانتے ہیں؟
- معاشی ترقی سے کیا مراد ہے؟
- ذرائع مواصلات کی تعریف کیجیے۔
- عمومی اور سرکاری مالیات میں فرق کے دو نکات بیان کیجیے۔
- پاکستان کی معاشی ترقی میں ٹیکنالوجی کا کردار بیان کیجیے۔
- زکوٰۃ سے غربت کیسے ختم کی جاسکتی ہے؟
- سرکاری قرضہ کے بارے میں تحریر کیجیے۔
- سرکاری آمدنی کی پانچ ذرائع لکھیے۔
- صرف دو ذرائع مواصلات کے نام لکھیں۔

SECTION-II حصہ دوم

NOTE: - Attempt any three questions. 24 = 3 x 8

نوٹ۔ کوئی سے تین سوالات کے جوابات تحریر کیجیے۔

- Explain the functions of Money with the help of examples.
- Explain the followings:-
(ii) Central Bank as "Banker's Bank" "مرکزی بینک بحیثیت " بینکوں کا بینک "
- Describe in detail the major Imports of Pakistan.
- Explain the Sources of Public Revenue.
- Explain characteristics of Islamic Economic System.

- زر کے فرائض کی وضاحت مثالیں دے کر کیجیے۔
- درج ذیل کی وضاحت کیجیے۔
(i) نوٹوں کا اجرا Note issuing
- پاکستان کی اہم درآمدات تفصیل سے بیان کیجیے۔
- حکومت کے ذرائع آمدنی کی وضاحت کیجیے۔
- اسلام کے معاشی نظام کی خصوصیات بیان کیجیے۔