

Roll No.

--	--	--	--	--	--

Answer Sheet No. 21

Sig. of Candidate. _____

Sig. of Invigilator. _____





PHYSICS SSC-II SECTION – A (Marks 12)

Time allowed: 20 Minutes

Version Number 1 8 1 1

NOTE: Section-A is compulsory. All parts of this section are to be answered on the question paper itself. It should be completed in the first 20 minutes and handed over to the Centre Superintendent. Deleting/overwriting is not allowed. Do not use lead pencil.

Q. 1 Circle the correct option i.e. A / B / C / D. Each part carries one mark.

- (i) What is the frequency of second pendulum?
A. 1.5 Hz B. 2 Hz C. 1 Hz D. 0.5 Hz
- (ii) If the mass of bob of a pendulum is increased by a factor of '2' then the period of pendulum motion will:
A. Increase a factor of '2' B. Increase a factor of '4'
C. Remains same D. Increase a factor of $\sqrt{2}$
- (iii) The sound energy passing per unit area per second is called:
A. Loudness B. Intensity of sound
C. Pitch of sound D. Frequency
- (iv) The intensity level of mosquito buzzing is:
A. 40 dB B. 30 dB C. 20 dB D. 10 dB
- (v) The unit of power of lens is:
A. Watt B. $J s^{-2}$ C. Joule D. Dioptr
- (vi) If radius of curvature is 10cm then focal length of convex lens is:
A. 20 cm B. 10 cm C. 5 cm D. 2.5 cm
- (vii) If we double the distance between two point charges then coulomb's force will:
A. Increase 4 times B. Decrease 4 times
C. Increase 2 times D. Decrease 2 times
- (viii) $1 pF = ?$
A. $10^{-12} F$ B. $10^{-9} F$ C. $10^{12} F$ D. $10^9 F$
- (ix) The Symbol of earth in an electrical circuit is:
A.  B.  C.  D. 
- (x) The electrical power is given by:
A. $P = VI$ B. $P = I^2 R^2$ C. $P = \frac{V^2}{R^2}$ D. $P = VI t$
- (xi) In Burglar alarm, the Light Dependent Resistance (LDR) acts as a/an:
A. OFF switch B. ON switch C. AND gate D. OR gate
- (xii) Which is the correct order of radiations for penetrating ability?
A. $P_\alpha < P_\beta < P_\gamma$ B. $P_\alpha > P_\beta > P_\gamma$
C. $P_\beta < P_\alpha < P_\gamma$ D. $P_\gamma \leq P_\beta \leq P_\alpha$

For Examiner's use only:

Total Marks:

12

Marks Obtained:

Roll No.

--	--	--	--	--	--

Answer Sheet No. _____



Sig. of Candidate _____

Sig. of Invigilator. _____

فزکس ایس ایس سی-II

وقت: 20 منٹ





Version No.

1	8	1	1
---	---	---	---

حصہ اول (کل نمبر: 12)

نوٹ: حصہ اول لازمی ہے۔ اس کے جوابات پر پے پر ہی دیے جائیں گے۔ اس کو پہلے میں منٹ میں مکمل کر کے نام مرکز کے حوالے کر دیا جائے۔ کاٹ کر دوبارہ لکھنے کی اجازت نہیں۔ لیز پینل کا استعمال ممنوع ہے۔

سوال نمبر: دیے گئے الفاظ یعنی الف راجح رو میں سے درست جواب کے گرد دائرہ لگائیں۔ ہر جزو کا ایک نمبر ہے۔

- (i) سیکنڈ ہینڈولم کی فریکوئنسی کیا ہے؟
الف۔ 1.5Hz ب۔ 2 Hz ج۔ 1 Hz د۔ 0.5 Hz
- (ii) اگر کسی ہینڈولم کی گولی کا ماس دوگنا کر دیا جائے تو اس ہینڈولم کی موشن کا پریکٹنا ہو جائے گا؟
الف۔ دوگنا بڑھ جائے گا ب۔ چارگنا بڑھ جائے گا ج۔ کوئی فرق نہیں پڑے گا د۔ $\sqrt{2}$ گنا بڑھ جائے گا
- (iii) ساؤنڈ انرجی کسی پوائنٹ ایریا سے فی سیکنڈ منتقل ہونے والی انرجی ساؤنڈ کی _____ کہلاتی ہے۔
الف۔ لاؤڈنس ب۔ انٹینسٹی آف ساؤنڈ ج۔ پیچ آف ساؤنڈ د۔ فریکوئنسی
- (iv) مچھری بھینباہٹ کا انٹینسٹی لیول _____ ہے۔
الف۔ 40dB ب۔ 30dB ج۔ 20dB د۔ 10dB
- (v) پاور آف لینٹر کا پوائنٹ _____ ہے۔
الف۔ ڈاٹ ب۔ $J s^{-2}$ ج۔ جول د۔ ڈیپٹر
- (vi) اگر کسی کنویکس لینز کا ریڈیس آف کرویچر 10cm ہو تو اس لینز کی فوکل لینگتھ _____ ہوگی۔
الف۔ 20cm ب۔ 10cm ج۔ 5cm د۔ 2.5cm
- (vii) اگر ہم دو پوائنٹ چارجز کے درمیان فاصلہ دوگنا کر دیں تو کولمب فورس _____ ہوگی۔
الف۔ چارگنا بڑھ جائے گی ب۔ چارگنا کم ہو جائے گی ج۔ دوگنا بڑھ جائے گی د۔ دوگنا کم ہو جائے گی
- (viii) 1 پیکوفریڈ = ؟
الف۔ $10^{-12} F$ ب۔ $10^{-9} F$ ج۔ $10^{12} F$ د۔ $10^9 F$
- (ix) الیکٹریکل سرکٹ میں ارتھ کا سمبل _____ ہے۔
الف۔  ب۔  ج۔  د۔ 
- (x) الیکٹریکل پاور دی گئی ہے:
الف۔ $P = VI$ ب۔ $P = I^2 R^2$ ج۔ $P = \frac{v^2}{R^2}$ د۔ $P = VIt$
- (xi) بریکر آلام میں (LDR) _____ کی طرح کام کرتا ہے۔
الف۔ آف سوئچ ب۔ آن سوئچ ج۔ ایڈجسٹ د۔ آرگٹ
- (xii) پیٹرنٹنگ قابلیت کے لحاظ سے ریڈی انٹرنز کی کون سی ترتیب درست ہے؟
الف۔ $P_\alpha < P_\beta < P_\gamma$ ب۔ $P_\alpha > P_\beta > P_\gamma$ ج۔ $P_\beta < P_\alpha < P_\gamma$ د۔ $P_\gamma \leq P_\beta \leq P_\alpha$

--

حاصل کردہ نمبر:

12

کل نمبر:

برائے ممتحن:



PHYSICS SSC-II

Time allowed: 2:40 Hours

Total Marks Sections B and C: 53

NOTE: Answer any eleven parts from Section 'B' and any two questions from Section 'C' on the separately provided answer book. Use supplementary answer sheet i.e. Sheet-B if required. Write your answers neatly and legibly.

SECTION - B (Marks 33)

- Q. 2** Answer any ELEVEN parts. The answer to each part should not exceed 3 to 4 lines. (11 x 3 = 33)
- Write down any three common properties of Longitudinal and Transverse waves.
 - If the time for 20 vibrations is 100 second then find:
 - Time period
 - Frequency
 - Explain briefly the transmission of radio waves.
 - Define the following:
 - Reverberation
 - Acoustics
 - Find the sound intensity if the sound level is 80 dB.
 - If the length of simple pendulum is '4' times, what will be the change in its time period?
 - If a high voltage power line fell across your car while you were in the car. Why should you not come out of the car?
 - Does each capacitor carry equal charge in series combination? Explain briefly.
 - Write down any three properties of electric field lines.
 - Name any three uses of oscilloscope.
 - Name two factors, which can enhance the thermionic emission and also define thermionic emission.
 - What are radio isotopes? Give two examples.
 - How much of 1 gram sample of pure radio active matter would be left undecayed after four half lives.
 - The $^{14}\text{C} : ^{12}\text{C}$ ratio in the fossil bone is found to be $\frac{1}{4}$ th that of the ratio in the bone of living animal. The half life of ^{14}C is 5730 years. What is the approximate age of the fossil?
 - Can current flow in a circuit without potential difference?

SECTION - C (Marks 20)

Note: Attempt any TWO questions. All questions carry equal marks. (2 x 10 = 20)

- Q. 3**
- Draw ray diagram of the following: (2+2+2)
 - Simple Microscope
 - Compound Microscope
 - Telescope
 - An object and its image in a concave mirror are of the same height yet inverted, when the object is 20 cm from the mirror. What is the focal length of the mirror? (04)
- Q. 4**
- Define Resistance and also prove that $R = \rho \frac{L}{A}$ (1+5)
 - A step down transformer has turn ratio 1:100. An A.C voltage of level of amplitude 170 volt is applied to primary coil. If the current in the primary coil is 1 mA then what is the current in secondary coil? (04)
- Q. 5**
- Define Generator, A.C Generator and also draw labelled diagram to illustrate the structure and working of A.C Generator. (1+1+4)
 - By applying a potential difference of 10 volt across the conductor, a current of 1.5 A passes through it. How much energy would be obtained from the current in 2 minutes? (04)



فزکس ایس ایس سی - II

کل نمبر حصہ دوم اور سوم 53

وقت: 2:40 گھنٹے

نوٹ: حصہ دوم اور سوم کے سوالات کے جوابات علیحدہ سے مہیا کی گئی جو ابی کاپی پر دیں۔ حصہ دوم کے گیارہ (11) اجزاء اور حصہ سوم میں سے کوئی سے دو (2) سوال حل کیجیے۔ ایکٹرا شیٹ (Sheet-B) طلب کرنے پر مہیا کی جائے گی۔ آپ کے جوابات صاف اور واضح ہونے چاہئیں۔

حصہ دوم (کل نمبر 33)

(11x3=33)

سوال نمبر ۲: مندرجہ ذیل اجزاء میں سے گیارہ (11) کے تین سے چار سطروں تک محدود جوابات لکھیں:

- (i) لوکیٹیو ڈائل ویوز اور ٹرانسورس ویوز کی کوئی سے تین مشترک خصوصیات لکھیں۔
- (ii) اگر ساؤنڈ ویو کا ٹائم 100 سیکنڈ ہو تو معلوم کریں: الف۔ ٹائم پیریڈ ب۔ فریکوئنسی
- (iii) ریڈیو ویوز کی ٹرانسمیشن کو مختصر بیان کریں۔
- (iv) مندرجہ ذیل کی تعریف کریں: الف۔ بازگشت ب۔ صوتی ناگہبانی
- (v) اگر ساؤنڈ لیول 80dB ہو تو ساؤنڈ انٹینسٹی معلوم کریں۔
- (vi) اگر ساؤنڈ پینڈولم کی لمبائی چار گنا کر دی جائے تو اس کے ٹائم پیریڈ میں کیا تبدیلی رونما ہوگی؟
- (vii) اگر آپ کی گاڑی پر ہائی ڈوٹ لائٹ پاور لائن گر پڑے جب کہ آپ گاڑی میں موجود ہوں تو آپ کو گاڑی سے باہر کیوں نہیں آنا چاہیے؟
- (viii) کیا سیریز پٹرینٹ سے جوڑے گئے کپیسٹرز میں ہر کپیسٹر پر مساوی چارج ہوتا ہے؟ مختصر وضاحت کریں۔
- (ix) ایکٹریک فیئلڈ لائٹز کی کوئی سی تین خصوصیات بیان کریں۔
- (x) اوسیلوسکوپ کے کوئی سے تین فائدے بیان کریں۔
- (xi) کون سے دو عوامل ہیں جن کی مدد سے تھر میوٹک ایبیلیٹی زیادہ ہوتی ہے؟ نیز تھر میوٹک ایبیلیٹی کی تعریف کریں۔
- (xii) ریڈیو آکٹو پوس کیا ہے؟ دو مثالیں دیں۔
- (xiii) ریڈیو ایکٹیو میٹریل کی مقدار ایک گرام ہے۔ چار ہاف لائف کے بعد اس میٹریل کی کتنی مقدار باقی رہ جائے گی؟
- (xiv) ایک فوسل کی ہڈی C-14 اور C-12 کی شرح زندہ جانور کی ہڈی میں اس شرح کا 1/4 گنا ہے۔ اگر G-14 کی ہاف لائف 5730 سال ہو تو فوسل کی ہڈی کی عمر تقریباً کتنی ہوگی؟
- (xv) کیا ایک سرکٹ میں کرنٹ پمپٹل ڈفرنس کے بغیر بہ سکتا ہے؟

حصہ سوم (کل نمبر 20)

(2x10=20)

(کوئی سے دو سوال حل کیجیے۔ تمام سوالوں کے نمبر برابر ہیں۔)

- سوال نمبر ۳: الف۔ مندرجہ ذیل کے لیے رے ڈایا گرام بنائیں: (2+2+2)
- i. ساؤنڈ مائیکرو سکوپ
 - ii. کپاڈنڈ مائیکرو سکوپ
 - iii. ٹیلی سکوپ
- ب۔ اگر کئیو مر سے 20cm پر پڑے ہوئے جسم کے امیج کی اونچائی جسم کی اونچائی کے برابر ہے مگر امیج الٹی ہے۔ تو مر کی فوکل لینتھ کیا ہوگی؟ (04)
- سوال نمبر ۴: الف۔ ریٹینس کی تعریف کریں۔ نیز یہ فارمولا ثابت کریں۔ $R = \rho \frac{L}{A}$ (5+1)
- ب۔ ایک سٹیپ ڈاؤن ٹرانسفارمر میں پیکروں کی نسبت 100:1 ہے۔ پرائمری وولٹیج (V_p) 170 volt ہے۔ اگر پرائمری کوائل میں کرنٹ 1mA ہو تو سیکنڈری کوائل میں کرنٹ معلوم کریں۔ (04)
- سوال نمبر ۵: الف۔ جزیئر اور اے سی جزیئر کی تعریف کریں اور لیبل ڈیاگرام کی مدد سے اے سی جزیئر کی ساخت اور کام کرنے کا اصول بیان کریں۔ (4+1+1)
- ب۔ ایک کنڈکٹر کے اطراف پمپٹل ڈفرنس 10V ہے۔ اگر اس کنڈکٹر میں سے 1.5A کرنٹ بہ رہا ہو تو اس کرنٹ میں سے 2 منٹ میں کتنی انرجی حاصل ہوگی؟ (04)

Roll No.

--	--	--	--	--	--

Answer Sheet No. 23

Sig. of Candidate. _____

Sig. of Invigilator. _____

PHYSICS SSC-II
SECTION – A (Marks 12)

Time allowed: 20 Minutes

Version Number

1	8	1	6
---	---	---	---

NOTE: Section-A is compulsory. All parts of this section are to be answered on the question paper itself. It should be completed in the first 20 minutes and handed over to the Centre Superintendent. Deleting/overwriting is not allowed. Do not use lead pencil.

Q. 1 Circle the correct option i.e. A / B / C / D. Each part carries one mark.

- (i) The critical angle of water will be:
A. 18.8° B. 28.8° C. 38.8° D. 48.8°
- (ii) Which of the following equations is correct for magnification?
A. $\frac{q}{p}$ B. $\frac{q^2}{p^2}$ C. $\frac{h_o}{h_i}$ D. $\frac{h_o^2}{h_i^2}$
- (iii) If the time period of simple pendulum is one second, then its length on earth will be:
A. 1.25 m B. 0.25 m C. 2.25 m D. 3.25 m
- (iv) What is the displacement of an object in simple harmonic motion when $K.E = P.E$?
A. $x = x_o$ B. $x = \frac{x_o}{4}$ C. $x = \frac{x_o}{\sqrt{2}}$ D. $x = \frac{x_o^2}{3}$
- (v) The SI unit of intensity of sound is:
A. $J s^{-1} m^{-2}$ B. $J s^{-2} m^{-2}$ C. $w m$ D. $w m^{-3}$
- (vi) Loudness of sound depends upon:
A. Wavelength B. Frequency C. Amplitude D. Time period
- (vii) If 5 joule of work is needed to shift the 10 coulomb charge from one place to another place then the potential difference between the plates will be:
A. 5 volt B. 10 volt C. 2 volt D. 0.5 volt
- (viii) 1 eV is equal to
A. $1.6 \times 10^{-9} J$ B. $1.6 \times 10^{19} J$ C. $1.6 \times 10^{-19} J$ D. $1.6 \times 10^9 J$
- (ix) How long does it take a current of 10 mA to deliver 30 C of charge?
A. 3 s B. 30 s C. 300 s D. 3000 s
- (x) Kilowatt Hour is a unit of:
A. Energy B. Power C. Current D. Resistance
- (xi) Which of the following is not processing?
A. Manipulating B. Calculating C. Arranging D. Gathering
- (xii) What is the size of Nucleus?
A. $10^{-10} m$ B. $10^{-14} m$ C. $10^{-18} m$ D. $10^{-22} m$

For Examiner's use only:

Total Marks:

12

Marks Obtained:

— 2SA 1807 (ON) —

Roll No.

--	--	--	--	--	--

Answer Sheet No. _____



Sig. of Candidate _____

Sig. of Invigilator _____

فزکس ایس ایس سی-II

وقت: 20 منٹ

Version No.

1	8	1	6
---	---	---	---

حصہ اول (کل نمبر: 12)

نوٹ: حصہ اول لازمی ہے اس کے جوابات پرچہ پر ہی دیے جائیں گے۔ اس کو پہلے میں منٹ میں مکمل کر کے ناظم مرکز کے حوالے کر دیا جائے۔ کات کر دو بارہ لکھنے کی اجازت نہیں۔ لیزر مشین کا استعمال ممنوع ہے۔

سوال نمبر: دیے گئے الفاظ یعنی الف راجد میں سے درست جواب کے گرد دائرہ لگائیں۔ ہر جزو کا ایک نمبر ہے۔

- (i) پانی کا کریٹیکل اینگل _____ ہے۔
الف۔ 18.8° ب۔ 28.8° ج۔ 38.8° د۔ 48.8°
- (ii) میگنیٹیشن کے لیے کون سی مساوات درست ہے؟
الف۔ $\frac{q}{p}$ ب۔ $\frac{q^2}{p^2}$ ج۔ $\frac{h_o}{h_i}$ د۔ $\frac{h_o^2}{h_i^2}$
- (iii) اگر سادہ پینڈولم کا ٹائم پیریڈ ایک سیکنڈ (1s) ہے۔ اس کی زمین پر لمبائی کیا ہوگی؟
الف۔ 1.25m ب۔ 0.25m ج۔ 2.25m د۔ 3.25m
- (iv) سپرل ہارمنک موشن میں کسی جسم کا ڈسپلیسمنٹ کیا ہوگا؟ جب کاہنٹک انرجی اور پوٹینشل انرجی برابر ہوں۔
الف۔ $x = x_o$ ب۔ $x = \frac{x_o}{4}$ ج۔ $x = \frac{x_o}{\sqrt{2}}$ د۔ $x = \frac{x_o}{3}$
- (v) اینٹینٹی آف سائونڈ کی SI یونٹ _____ ہے۔
الف۔ $J s^{-1} m^{-2}$ ب۔ $J s^{-2} m^{-2}$ ج۔ $W m$ د۔ $W m^{-3}$
- (vi) لائڈنس آف سائونڈ کا انحصار _____ پر ہے۔
الف۔ ویولنٹھ ب۔ فریکوئنسی ج۔ ایمپلی ٹیوڈ د۔ ٹائم پیریڈ
- (vii) ایک 10 کولمب چارج کو ایک جگہ سے دوسری جگہ لے جانے کے لیے 5 جول ورک کرنا پڑتا ہے۔ ان دونوں مقامات کے درمیان پوٹینشل ڈفرینس _____ ہوگا۔
الف۔ 5v ب۔ 10v ج۔ 2v د۔ 0.5v
- (viii) $1eV$ برابر ہے:
الف۔ $1.6 \times 10^{-9} J$ ب۔ $1.6 \times 10^{19} J$ ج۔ $1.6 \times 10^{-19} J$ د۔ $1.6 \times 10^9 J$
- (ix) کتنی ڈیر میں 10mA کرنٹ بہتا ہے؟ اگر 30C چارج ہوں تو:
الف۔ 3 S ب۔ 30 S ج۔ 300 S د۔ 3000 S
- (x) کلورواٹ آؤر کس کا یونٹ ہے؟
الف۔ انرجی ب۔ پاور ج۔ کرنٹ د۔ رزسٹنس
- (xi) کون سا عمل پروسیسنگ نہیں ہے؟
الف۔ جوڑ توڑ کرنا ب۔ حساب کتاب کرنا ج۔ ترتیب دینا د۔ اکٹھا کرنا
- (xii) نیوکلیئس کا سائز کیا ہے؟
الف۔ $10^{-10} m$ ب۔ $10^{-14} m$ ج۔ $10^{-18} m$ د۔ $10^{-22} m$

--

حاصل کردہ نمبر:

12

کل نمبر:

برائے ممتحن:



PHYSICS SSC-II

24

Time allowed: 2:40 Hours

Total Marks Sections B and C: 53

NOTE: Answer any eleven parts from Section 'B' and any ~~two~~ questions from Section 'C' on the separately provided answer book. Use supplementary answer sheet i.e. Sheet-B if required. Write your answers neatly and legibly.

SECTION - B (Marks 33)

Q. 2 Answer any ELEVEN parts. The answer to each part should not exceed 3 to 4 lines. (11 x 3 = 33)

- (i) Prove that $v = f\lambda$
- (ii) Differentiate loudness and intensity of sound.
- (iii) Why the voice of women is more shrill than that of men?
- (iv) Define the following terms of lens:
 - a. Principal axis
 - b. Optical centre
 - c. Power of lens
- (v) Why is the driver's side mirror in many cars convex rather than plane or concave?
- (vi) Why do we use refracting telescope with large objective lens of large focal length?
- (vii) What is the difference between variable and fixed capacitor?
- (viii) Describe briefly electrostatic air cleaner.
- (ix) Differentiate between electromotive force and potential difference.
- (x) Why ammeter is always connected in series with circuit?
- (xi) Does a fuse in a circuit control the potential difference or the current?
- (xii) State Faraday's law of electromagnetic induction.
- (xiii) Can a transformer operate on direct current?
- (xiv) What is super computer?
- (xv) Make a truth table of:
 - a. AND gate
 - b. OR gate

SECTION - C (Marks 20)

Note: Attempt any TWO questions. All questions carry equal marks. (2 x 10 = 20)

- Q. 3**
- a. Define Nuclear fission reaction and fission chain reaction. Differentiate between controlled and uncontrolled fission chain reaction. (1+2+3)
 - b. If the length of copper wire is 1m and its diameter is 2mm then find the resistance of this copper wire. (Resistivity of wire is $1.69 \times 10^{-8} \Omega m$) (04)
- Q. 4**
- a. Define C.R.O. Draw the labelled diagram of C.R.O. Explain the working of different parts of C.R.O. (1+2+3)
 - b. Calculate the intensity level of the faintest audible sound in decibel. (04)
- Q. 5**
- a. Explain the following properties of wave with reference to ripple tank experiment: (2+2+2)
 - i. Reflection
 - ii. Refraction
 - iii. Diffraction
 - b. A sound wave has frequency of 2 KHz and wavelength 35cm. How long will it take to travel 1.5 km? (04)



فزکس ایس ایس سی - II

محل نمبر حصہ دوم اور سوم

وقت: 2:40 گھنٹے

نوٹ: حصہ دوم اور سوم کے سوالات کے جوابات علیحدہ سے مہیا کی گئی جوابی کاپی پر دیں۔ حصہ دوم کے گیارہ (11) اجزاء اور حصہ سوم میں سے کوئی دو (2) سوال حل کیجیے۔ ایکسٹرا شیٹ (Sheet-B) طلب کرنے پر مہیا کی جائے گی۔ آپ کے جوابات صاف اور واضح ہونے چاہئیں۔

حصہ دوم (محل نمبر 33)

(11x3=33)

سوال نمبر ۲: مندرجہ ذیل اجزاء میں سے گیارہ (11) کے تین سے چار سطروں تک محدود جوابات لکھیں:

- (i) ثابت کریں: $v = f\lambda$
- (ii) لاؤڈنس اور انٹینسٹی آف ساؤنڈ میں فرق بیان کریں۔
- (iii) عورتوں کی ساؤنڈ مردوں کی ساؤنڈ سے زیادہ باریک کیوں ہوتی ہے؟
- (iv) لینز کے لحاظ سے تعریف کریں:
- الف۔ پرنسپل ایکسز ب۔ آپٹیکل سنٹر ج۔ پاور آف لینز
- (v) زیادہ تر کاروں کا ڈرائیور کی طرف والا مرہیلین یا کنکویو مر کی بجائے کنویکس مر کیوں ہوتا ہے؟
- (vi) ہم زیادہ فوکل لیننگھ کے آجیکٹو لینز والی رفریکٹیو ٹیلی سکوپ کیوں استعمال کرتے ہیں؟
- (vii) ویری ایبل اور فکسڈ کپیسٹرز میں فرق بتائیے۔
- (viii) ایکسٹرنل ڈیپنڈنسی کو مختصر بیان کریں۔
- (ix) ایکسٹرنل موٹو فوٹوس اور پوٹینشل ڈفرنس میں فرق بیان کریں۔
- (x) سرکٹ میں ایسیٹر کو ہمیشہ سیریز طریقے سے ہی کیوں جوڑا جاتا ہے؟
- (xi) کسی ایکٹو سرکٹ میں فیوز پوٹینشل ڈفرنس کو کنٹرول کرتا ہے یا کرنٹ کو؟
- (xii) فیوڈ کے قانون کی تعریف کریں۔
- (xiii) کیا ٹرانسفارمر ڈائریک کرنٹ پر کام کر سکتا ہے؟
- (xiv) سپر کپیسٹور کیا ہے؟
- (xv) ٹروٹھ ٹیبل بنائیے۔
- الف۔ اینڈ گیٹ (AND Gate) ب۔ آر گیٹ (OR Gate)

حصہ سوم (محل نمبر 20)

(2x10=20)

(کوئی سے دو سوال حل کیجیے۔ تمام سوالوں کے نمبر برابر ہیں۔)

- سوال نمبر ۳: الف۔ نیوکلیئشن ری ایکشن اور فشن چین ری ایکشن کی تعریف کریں۔ کنٹرول فشن اور ان کنٹرول فشن چین ری ایکشن میں فرق بیان کریں۔
- ب۔ اگر کارپری تار کی لمبائی 1m اور ڈایامیٹر 2mm ہو تو اس کی رزسٹنس معلوم کریں۔ (کارپری سپرکونڈکٹرز رزسٹنس $1.69 \times 10^{-8} \Omega m$ ہے)
- سوال نمبر ۴: الف۔ C.R.O کی تعریف کریں۔ لیبل ڈایا گرام بنائیں۔ اور (C.R.O) اوسیلوسکوپ کے مختلف کپوٹنٹس کے عمل کی وضاحت کریں۔
- ب۔ قابل ساعت مدہم ترین ساؤنڈ کا انٹینسٹی لیول ڈیسیبل میں معلوم کریں۔
- سوال نمبر ۵: الف۔ ریل ٹینک کے لحاظ سے مندرجہ ذیل کی وضاحت کریں: الف۔ ریفلکشن ب۔ رفریکشن ج۔ ڈفریکشن
- ب۔ اگر ساؤنڈ ویو کی فریکوئنسی اور ویولنگتھ 2KHz اور 35cm ہے تو اسے 1.5km فاصلے طے کرنے کے لیے کتنا وقت درکار ہوگا؟